

4 (山梨・近江・米原・伊吹) つの学びあいステーション合同企画!!



かいとうようし 解答用紙

まいばら検定プロジェクト

はじめに

この「まいばら検定こども編」は、米原に関するさまざまな事柄をどれだけ知っているかをたずねるもので、むずかしい問題ではありません。下記の8のジャンルのの中から50問を出題しています。

- ①伊吹山 ②自然 ③歴史 ④文化 ⑤観光
- ⑥地域 ⑦交通 ⑧特産品 学びあいステーション ゆるキャラ

検定試験の解答方法

①～③の中から正しいと思うものを選んで、**こたえ** のなかに記入しましょう。

※一部の問題は①～⑤

解答例

問0

〇〇〇〇〇〇〇〇〇〇〇〇〇〇〇〇〇〇〇〇〇〇〇〇〇〇〇〇

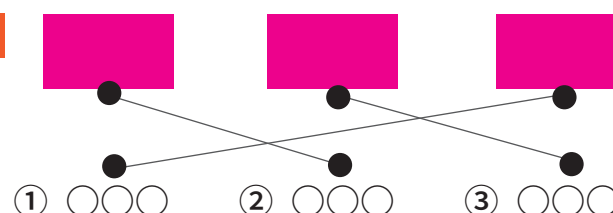
①.〇〇〇 ②.〇〇〇 ③.〇〇〇

こたえ

①

線でむすぶ問題は、言葉、イラスト
または写真を正しい組み合わせに
なるよう、線を引いてください。

解答例



検定試験を受けるみなさんへ (注意事項)

試験がはじまる前に

- 試験がはじまるまでは、問題用紙を見たり書いたりしないでください。
- ガイドブックやスマートフォンなどは、かばんの中にしまってください。
- 使える筆記用具は、えんぴつ・シャープペン・けしゴムだけです。

試験中のルール

- 試験時間は60分です。早くおわっても席を離れず、試験終了時間まで待っていてください。
- まわりの人と話したり、こっそり見たりするのは禁止です。
- わからない言葉や表現については、最終ページの用語集を参考にしてください。
- 小学1・2年生へ・・・
保護者の方に聞くことができるのは、問題の読み方だけです。(答えは聞けません)
- わからないことがあったら、手をあげて会場内の職員(試験スタッフ)に聞いてください。
- 問題の指示(「〇〇に書きましょう」など)をよく読んで、正しく答えてください。

答えを書くときの注意

- 答えは、問題に沿ったこたえの枠のなかに書いてください。
- 答えを書くところ以外には、何も書かないでください。

試験がおわったら

- 「終わります」という合図があったら、書くのをやめてください。
- 問題用紙は、持ち帰らないでください。
- 試験の内容を、あとでともだちに話したり SNS に書いたりするのは禁止です。
- 試験会場内での写真撮影・録音・録画は禁止です。

ジャンル① いぶきやま 伊吹山

①～③の中から正解と思うものを選んで、こたえ のなかに記入しよう！

問1 伊吹山の山頂（てっぺん）に建てられている像は？
① ヤマトタケルノミコト ② ヤマトカケルノミタマ ③ ウチュウセンカンヤマト




こたえ
①

問2 日本の山ベスト100（日本百名山）に選ばれた伊吹山の高さは何m？
① 1377m ② 1337m ③ 3776m




問4 伊吹山の積雪（地面につもった雪）は世界山岳観測史上1位の記録をもっています。その高さは？
① 11m82cm ② 5m39cm ③ 9m35cm



こたえ
①

問5 伊吹山は1億5000万年前に海底が上がったり下がったりしてできた山で石灰岩できています。この石灰岩を利用して栄えた産業は？
① 石臼製造 ② 宝石加工 ③ セメント製造



こたえ
③

ジャンル② しぜん 自然

※南限地・・・生きものが生息する南方の限界のこと

問6 昭和34年（1959年）にマガモ自然繁殖の南限地として滋賀県の天然記念物に指定されたさまざまな水鳥や野鳥がやってくる池は？
① マガモ池 ② 山東池 ③ 三島池



こたえ
③

※国蝶・・・国を象徴する蝶のこと


問7 近江地域の多和田にあるかぶと山には国蝶がいます。その蝶とは？
① アオスジアゲハ ② オオムラサキ ③ アゲハチョウ



こたえ
②

ジャンル② しぜん 自然 ホタル

問8 山東地域の長岡では、「長岡の〇〇ボタルおよびその発生地」として昭和27年（1952年）に国の特別天然記念物に指定されました。〇〇に入ることは？
① ゲンジ ② ヘイケ ③ ヒメ



こたえ
①

問9 ホタルの成虫はエサを食べずに水しか飲みませんが、幼虫は巻貝を食べます。では、ゲンジボタルの幼虫のおもなエサといえは？
① アサリ ② カワナナ ③ ハマグリ



こたえ
②

問10 米原市には4種のホタルが生息しています。ゲンジボタルとヘイケボタルとヒメボタルとあとひとつは？
① ホバボタル ② スジグロボタル ③ クロマドボタル



こたえ
③

ジャンル③ れきし 歴史

①～③の中から正解と思うものを選んで、こたえ のなかに記入しよう！

問11 伊吹山のふもとに山城を建てたといわれている戦国大名は？
① 京極氏 ② 浅井家 ③ 織田家



こたえ
①

問12 昔は日照りが続くなどして川が干上がると水をめぐって争いが起こっていました。この争いを何という？
① 水争い ② 水の乱 ③ 水合戦



こたえ
①

※分水・・・水を公平に分けるしくみ

問13 山東地域の間田にある、水流を分けている分水をなんという？
① 三川分水 ② 四川分水 ③ 五川分水



こたえ
③

問14 滋賀県指定史跡に指定されている山津照神社古墳は近江地域のどこにある？
① 能登瀬 ② 高溝 ③ 舟崎



こたえ
①

問15 米原地域の磯には、磯山と呼ばれる小さな里山があり、その昔、磯山城という山城がありました。その遺跡からどの時代の人骨が見つかった？
① 縄文時代 ② 弥生時代 ③ 江戸時代



こたえ
①

ジャンル③ さめが い 醒井 歴史

問16 醒井を流れる地蔵川には岐阜県と滋賀県のごく一部にしか生息していない貴重な淡水魚がいます。その魚とは？
① ホンモロコ ② ハリヨ ③ メダカ




こたえ
②

問17 夏（7～9月ごろ）の地蔵川には、清流でしか育たない白い花が咲きます。この花の名前は？
① 桃花藻 ② 桜花藻 ③ 梅花藻



こたえ
③

問18 醒井にある了徳寺の境内には、葉の上に銀杏の実がなるイチヨウの木があります。天然記念物にも指定されているこの木の名前は？
① オハツキイチョウ ② コブツキイチョウ ③ ハネツキイチョウ



こたえ
①

ジャンル④ ぶんか 文化

①～③の中から正解と思うものを選んで、こたえ のなかに記入しよう！

問 19

米原市内で唯一、国の重要文化財に指定された「木像伝教大師坐像」があるお寺の名前は何でしょう？

- ① 青岸寺 ② 大原観音寺 ③ 西門寺



こたえ
②

ジャンル④ まつ 文化 お祭り

問 20

お祭りの写真とヒントを手がかりにあてはまるお祭りの名前を選んで線でむすんでみよう！



坂田神明宮の春祭り。はつぴ姿で足を蹴り上げ、はつぴ歩きが特徴的。



市内でもとくに大きな太鼓踊り。5年に1度開催される伝統行事。



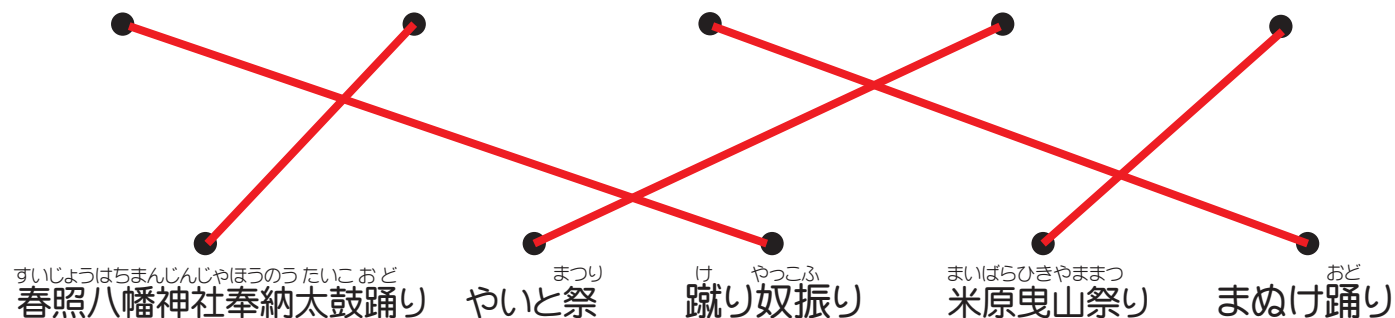
米原の磯地域に伝わる踊り。盆踊りのあとに踊ります。



伊吹もぐさにちなんで地域住民がはじめたお祭り。宿場町のにぎわいを再現。



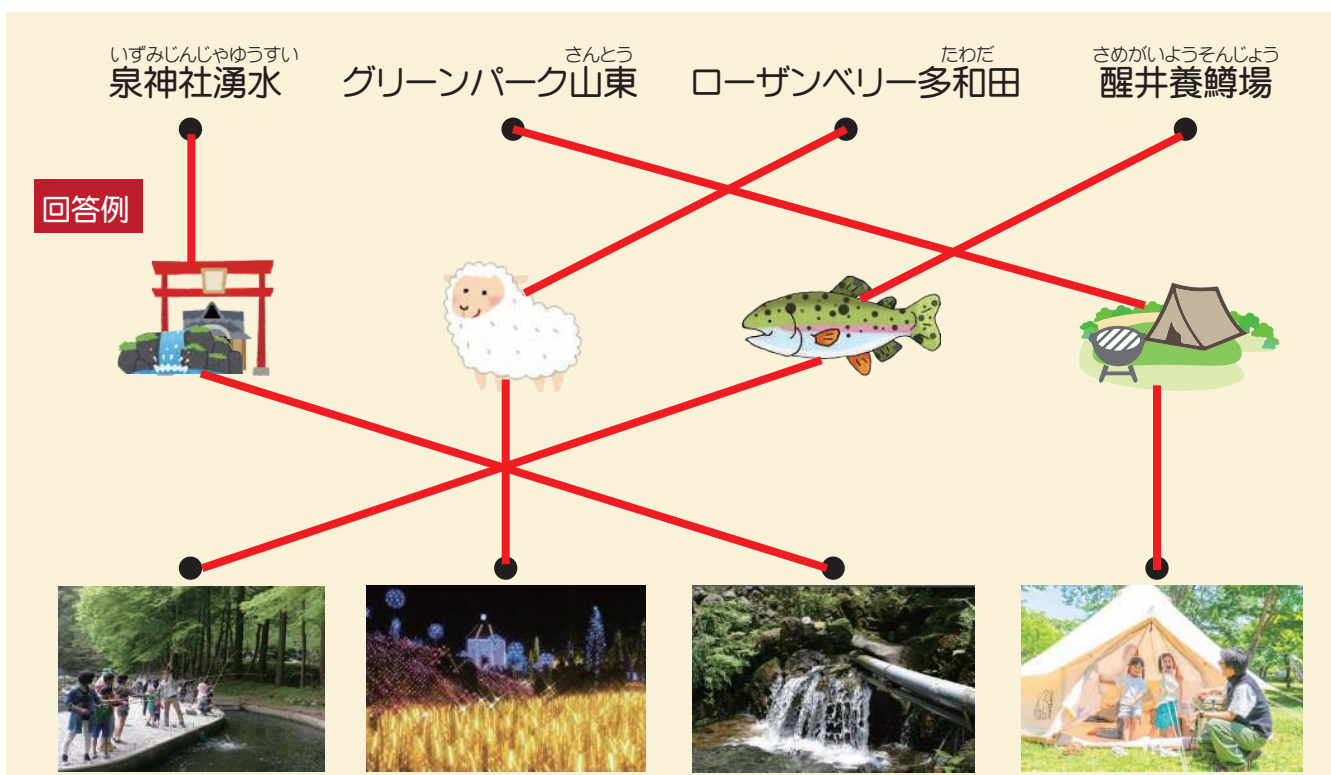
湯谷神社の祭礼で山車（だし）の上で演じる子ども歌舞伎が見どころ。



ジャンル⑤ かんこう 観光

問 21

次の「観光スポット」と「イラスト」と「写真」を線でむすんでみよう！
※線のむすび方は、左下の回答例をよくみよう



ジャンル⑥ ちいき 地域

問 22

米原市の位置はどこ？
マップの中のイラストを手がかりに正しい位置を示そう！



こたえ
③

問 23

米原市の人口は何人？ ※2025年10月1日現在

①
54,069人


②
113,297人

③
36,624人

こたえ
③

問 24

米原市の市章は次のうちどれ？



市章・市を象徴するシンボルマーク。市の歴史、文化などがデザインにこめられています。

こたえ
③

問 25

パズルのなかに隠れている建物はなに？



こたえ
③

- ① 米原学びあいステーション ② 米原駅 ③ 米原市役所

問 26

仲間はずれをさがせ！ 次の写真のうち米原市役所にはないものはどれ？

① コンベンションホール

② 露天風呂

③ 屋外広場



こたえ
②

ジャンル⑥ 地域 **地名**

米原市の地名 正しく読めるかな?

問 27 伊吹地域 **春 照** **こたえ** ③

① しゅんしょう ② はるてる ③ すいじょう

問 28 山東地域 **小 田** **こたえ** ③

① しょうた ② おだ ③ やないだ

問 29 近江地域 **顔 戸** **こたえ** ③

① かおと ② がんど ③ ごうど

問 30 米原地域 **河 南** **こたえ** ①

① かななみ ② こうなみ ③ かわみなみ

ここで、チョットひと息 ブレイクタイム♪

問 31 米原市のシンボルキャラクター「ホタルン」の顔には、“お米つぶ”がついています。どこについているでしょうか？
右のホタルンのお顔にお米つぶをかいてみよう。

ヒント!

問題用紙を最後まで見てみましょう!



ジャンル⑥ 地域 **なぜなぜ**

米原市の地域にちなんだ“なぜなぜ問題”です。
あたまをやわらかくしてかんがえよう!

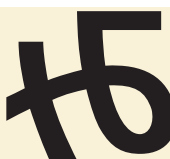
問 32 お坊さんがいるところで、夜なのに電気をつけません。
この字(自治会)はどこ? **こたえ** ③

① 西円寺(さいえんじ) ② 新庄(しんじょう) ③ 寺倉(てくら)



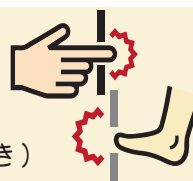
問 33 ここはどこの字(自治会)? ※右の図をみて答えよう! **こたえ** ③

① 新庄(しんじょう) ② 岩脇(いおぎ) ③ 箕浦(みのうら)



問 34 この字(自治会)では、ドアなどで手や足をはさむケガが多いです。
この字(自治会)はどこ? **こたえ** ①

① 間田(はざまた) ② 村居田(むらいだ) ③ 野一色(のいしき)



ジャンル⑦ 交通

①～③の中から正解と思うものを選んで、**こたえ** のなかに記入しよう!

問 35 伊吹せんろみちは、かつて大阪セメント伊吹工場から近江長岡駅を結ぶ専用列車が走っていました。先頭車両に描かれていた大阪セメントのシンボルマークになっていた動物は? **こたえ** ②

① トラ ② ライオン ③ シカ



問 36 米原市内には中山道、北国街道、北国脇往還の3つが通っています。では、北国脇往還にあった宿場町は春照とどこ? **こたえ** ①

① 藤川 ② 上野 ③ 高番



問 37 米原市内を通る3つの街道のうち、山東地域の柏原を通っていた街道はどれ? **こたえ** ①

① 中山道 ② 北国街道 ③ 北国脇往還



問 38 米原市(山東地域)から長浜市へ抜ける2つのトンネルの名称は? **こたえ** ②

① 米原トンネル と 長浜トンネル ② 新観音坂トンネル と 新横山トンネル ③ 山東トンネル と 伊吹トンネル



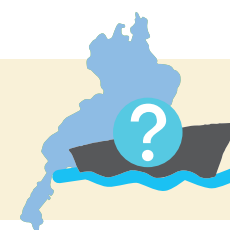
問 39 近江地域の宇賀野・高溝地区にある信号のない円形の交差点のことを何という? **こたえ** ①

① ラウンドアバウト ② ラウンドアップ ③ ラウンドストリート



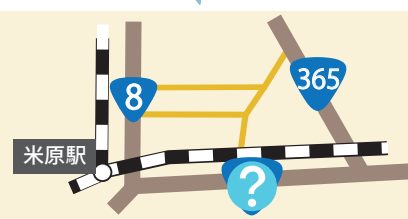
問 40 入江干拓が完成するまでは、びわ湖を何で往来していた? **こたえ** ①

① 舟 ② 水上スキー ③ プロペラ船



問 41 米原市には国道が3本通っています。国道8号線、国道365号線、あとひとつは? **こたえ** ③

① 15号線 ② 1号線 ③ 21号線



問 42 米原市内に“駅”はいくつある? **こたえ** ③

① 6駅 ② 7駅 ③ 8駅



ジャンル⑧ **特産品**

①～③の中から正解と思うものを選んで、こたえのなかに記入しよう！

問 43

いぶきちいき でんとうやさい いぶきだいこん は くび あかむらさき まる
伊吹地域の伝統野菜「伊吹大根」は、葉と首が赤紫色で丸みがあり、
さき ほそなが じもと なにだいこん よ
先は細長いことから、地元では何大根と呼ばれている？

- ① ねずみ ② いたち ③ とかげ



こたえ
①

問 44

でんとうこうげい えどじだい つた
近江地域の伝統工芸で江戸時代から伝えられて
きた「近江真綿」の原料は？

- ① ひつじの毛
② くもの糸
③ かいこのまゆ

こたえ
③



問 45

もといちば ほんしや
山東地域の本市場に本社があり、
シュラフ（寝袋）やダウンジャケット
などのアウトドア・アパレル製品を
作っている会社は？

- ① ナンガ
② コンガ
③ ジェンガ

こたえ
①



問 46

にっこうじ
近江地域の日光寺で
つくられている特産品
の干し柿といえば？

- ① あまえんぼう
② あまんぼう
③ まんぼう

こたえ
②



伊吹地域

山東地域

近江地域

米原地域

問 47

ゆうめい
米原地域で有名な特産品といえば？

- ① たくあん
② 赤カブ漬け
③ 千枚漬け

こたえ
②



まな **学びあいステーション**

問 48

あいしょう
米原市の各学びあいステーションには、それぞれ愛称（ニックネーム）が
あります。〇〇に当てはまる愛称を線でむすんで正しい愛称を完成させよう！



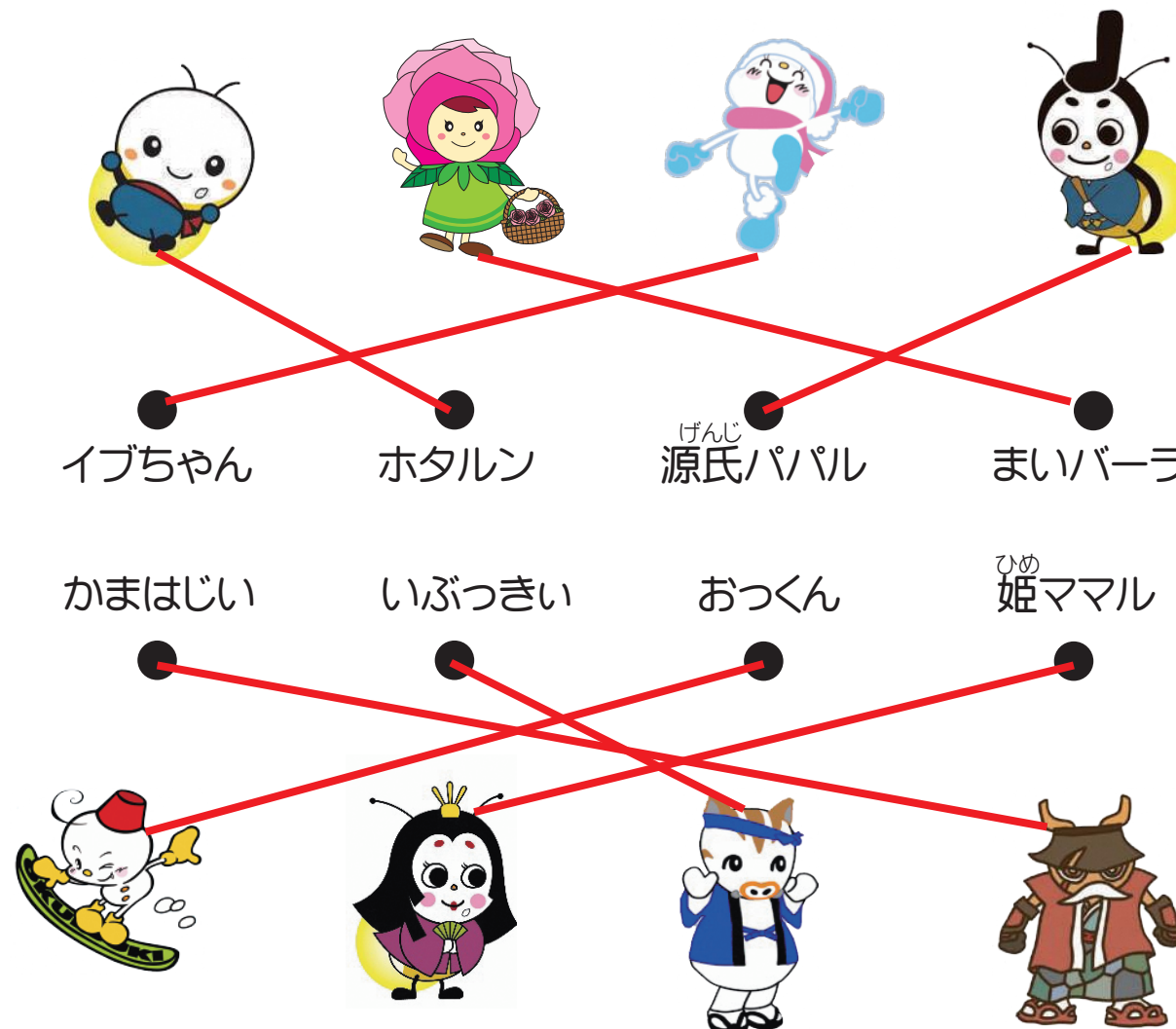
こんせ みらいく キラリ ジョイ
〇〇いぶき 〇〇さんとう 〇〇近江 〇〇米原



ゆるキャラ

問 49

まいばら検定公式ガイドブックに登場した米原市にちなんだゆるキャラたちが大集合！
ゆるキャラと正しい名前を線でむすぼう！



さいしゅうもんだい **最終問題**

問 50

あなたが住んでいるまちのいいところやじまんでできるところ、おすすめの
ポイントはなんですか？ 下の白い枠の中に書きましょう。

どんなことでもいいので自由に書いてみよう！

内容を問わず、質問に沿ったことが
書いてあれば正解とする。